

Cuaderno de trabajo

Itinerarios Equestres Costa de Trafalgar

Tercer Ciclo de Primaria



Cuaderno de trabajo

Itinerarios Ecuestres

Costa de Trafalgar

Barbate, Conil de la Frontera, Tarifa y
Vejer de la Frontera

Financian:



Promueven:



Colaboran:



¡Bienvenido a la Costa de Trafalgar!

La Costa de Trafalgar es un territorio donde se unen cultura, naturaleza y tradiciones, y que son una parte importante del patrimonio de Andalucía. A lo largo de la historia, la Costa de Trafalgar, ha sido un lugar de unión entre Europa y África, a través del Estrecho de Gibraltar. Este hecho ha permitido que por este territorio hayan pasado romanos, visigodos, árabes, etc., todos ellos han dejado un importante legado cultural en estas tierras.

Pero la Costa de Trafalgar también es naturaleza encontrándose tres parques naturales y otros espacios protegidos. En las poblaciones de Conil de la Frontera, Vejer de la Frontera, Barbate y Tarifa, el turismo convive con otros sectores tan importantes como la agricultura, la ganadería, la pesca y la industria.

Recientemente se ha procedido a la señalización en la Costa de Trafalgar de cinco rutas para realizarlas en caballo (itinerarios ecuestres) que recorren los espacios y lugares más importantes de este territorio.

Este cuaderno de trabajo contiene información y actividades con la que podrás descubrir la Costa de Trafalgar a través de los itinerarios ecuestres que recorren este territorio.

Ven, te invitamos a recorrer los caminos de la Costa de Trafalgar y a sumergirte en un viaje para descubrir la cultura y naturaleza de este singular territorio de Andalucía.



Nombre:.....

Edad:.....

Centro escolar:.....

Localidad:.....

¿Dónde estamos?

El territorio que forma la Costa de Trafalgar se encuentra situado en la zona más meridional de la Península Ibérica y se extiende por los términos de Conil de la Frontera, Vejer de la Frontera, Barbate y Tarifa, todos ellos en la provincia de Cádiz.

Aquí tienes un mapa donde está ubicado el territorio de la Costa de Trafalgar y el trazado de los itinerarios ecuestres. Pero, atención, ha habido un error en la imprenta y no han ubicado algunos nombres, ¿podrías ponerlos tú?

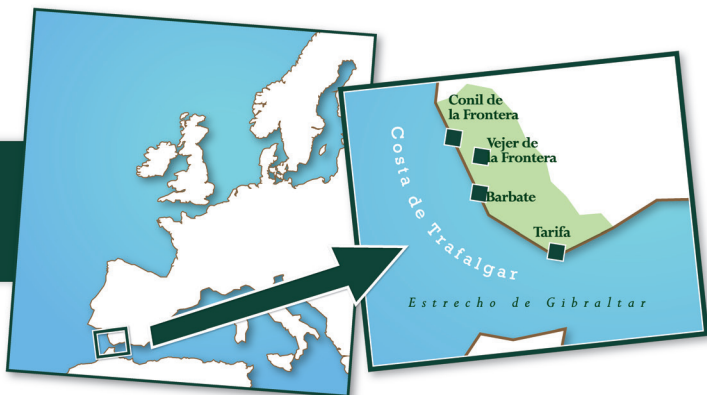
Océano Atlántico, Punta de Tarifa, Estrecho de Gibraltar y Mar Mediterráneo.



Situación

Andalucía / España / Europa

Provincia de Cádiz



Leyenda

	Autopista / Autovía
	Carretera nacional
	Carretera autonómica
	Carretera provincial
	Carretera local / Pista forestal
	Trazado Itinerarios Ecuestres
	Parque Natural
	Punto información Parque Natural
	Torre
	Observatorio
	Puerto
	Núcleo urbano
	Mirador
	Faro
	Yacimiento arqueológico
	Pedanía

ITINERARIOS ECUESTRES COSTA DE TRAFALGAR



IE-025

Costa de Trafalgar: Conil - Llano de las Maravillas



IE-026

Costa de Trafalgar: Barbate - Vejer



IE-027.1

Costa de Trafalgar: Vejer - Manzanete



IE-027.2

Costa de Trafalgar: Antigua Laguna de la Janda - Facinas



IE-028

Costa de Trafalgar: Guadalmesí - Tarifa

El relieve de la Costa de Trafalgar

Los itinerarios ecuestres de la Costa de Trafalgar permiten observar los diferentes relieves que existen en este territorio.

Relieve costero: formado por las tierras que limitan con el mar Mediterráneo y el océano Atlántico. En la Costa de Trafalgar se alterna la costa baja y arenosa con la abrupta. Destacan el gran número de accidentes geográficos como bahías, ensenadas, cabos, acantilados, playas, etc.



Actividades

1.- *¿Podrías explicar que es una costa baja y arenosa? ¿Y costa abrupta?*

.....

.....

.....

.....

2.- *¿Qué diferencia existe entre un cabo y una bahía?*

.....

.....

.....

.....

3.- Une los accidentes geográficos de la Costa de Trafalgar con su nombre (puedes guiarte por el mapa que está en la página 3.):

Cabo	de Gibraltar
Isla	Trafalgar
Bahía	de Tarifa o de las Palomas
Acantilado	de la Breña
Estrecho	de la Plata

4.- ¿Qué itinerarios ecuestres permiten observar estos relieves costeros?

.....

.....

.....

.....

Relieve de montaña: formado por zonas elevadas y con pendiente. En el caso de la Costa de Trafalgar destacan las sierras de Fates de Ojén, de Saladavieja, etc. Algunas de ellas llegan hasta la línea de costa.



Actividad

1.-¿En qué itinerarios ecuestres se pueden observar el relieve de montaña?

.....

.....

.....

.....

¿Sabías qué?

La ciudad de Tarifa es conocida como la ciudad del viento. Si observas alrededor de ella se encuentran gran cantidad de aerogeneradores ubicados en las zonas montañosas para poder generar más energía eólica.

Relieve de llanura: localizado en las zonas de interior y también junto a la costa. Se trata de un terreno llano donde se desarrolla la agricultura y ganadería como es el caso de la campiña y la Antigua Laguna de la Janda



Actividad

1.-¿Qué itinerarios ecuestres permiten observar estos relieves de llanura?

.....

.....

.....

.....

El clima en la Costa de Trafalgar

¿QUÉ ES EL CLIMA?

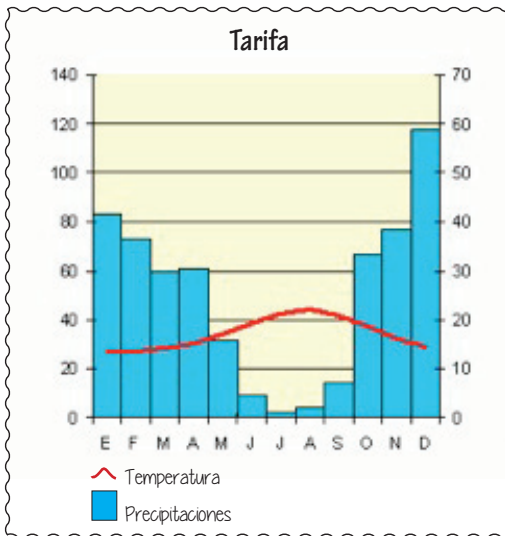
El clima es el conjunto de características meteorológicas (temperaturas y precipitaciones) que se dan en una superficie muy extensa durante un período largo de tiempo.

¿QUÉ ES EL TIEMPO?

El tiempo atmosférico se refiere a la situación de la atmósfera durante un período corto (un día o menos) en un espacio reducido de la superficie terrestre

¿QUÉ ES UN CLIMOGRAMA?

Es un gráfico donde se representan las precipitaciones y las temperaturas de un lugar en un determinado período (habitualmente un año y divididos por meses).



Debes saber que el clima que predomina en la Costa de Trafalgar es el clima Mediterráneo pero con las siguientes características:

- Se extiende desde Huelva a Gibraltar.
- Las temperaturas son suaves por la acción del océano Atlántico
- Las precipitaciones no son demasiado abundantes, entre los 500 y los 600 mms. anuales, con una marcada sequía estival

Actividades

1.- ¿El clima influye sobre vegetación, la fauna y la actividad humana?

Razona tu respuesta

.....

.....

.....

.....

.....

.....

2.- ¿Qué meses llueva más en Tarifa? ¿Y cuándo llueve menos?

.....

.....

.....

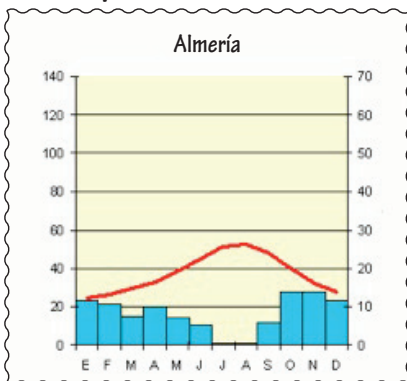
3.- ¿Cuándo se producen las temperaturas más bajas? ¿Y las más altas?

.....

.....

.....

4.- Compara el climograma de Tarifa con el de Almería.



.....

.....

.....

.....

.....

.....

.....

.....

.....

.....

Los espacios naturales de la Costa de Trafalgar

Los trazados de los itinerarios ecuestres discurren por espacios naturales de gran valor ecológico. En la Costa de Trafalgar los itinerarios recorren parte del P. N. Del Estrecho y el P. N. La Breña y Marismas del Barbate, así como otros de gran belleza como la Antigua Laguna de la Janda, la dehesa y acantilados de Roche, la campiña, etc.

Otros entornos espacios protegidos que se pueden visitar en la Costa de Trafalgar son el P.N. Los Alcornocales y los Monumentos Naturales de la Duna de Bolonia y el Tómbolo de Trafalgar.

Todos estos espacios son de gran importancia para los animales y las plantas. Es muy importante que conozcamos, respetemos y preservemos el rico patrimonio natural andaluz.



Monumento Natural Tómbolo de Trafalgar



P. N. de La Breña y Marismas del Barbate



Antigua Laguna de La Janda



P. N. Los Alcornocales



Monumento Natural Duna de Bolonia



P. N. Del Estrecho

IE-025 Costa de Trafalgar: Conil-Llano de las Maravillas

Este itinerario ecuestre posee una longitud de 18 kilómetros y tiene su origen en la población de Conil de la Frontera. En su recorrido, además de visitar el casco histórico de Conil de la Frontera, se puede diferenciar los diferentes relieves que presenta la costa (playas de fina arena y acantilados), el Pinar de Roche y el sistema defensivo y de vigilancia de las torres ubicadas junto a la costa.

CONIL DE LA FRONTERA

Esta población se encuentra en el extremo oeste de la Costa de Trafalgar. Se encuentra declarada Conjunto Histórico Artístico Conil de la Frontera por el importante número de edificios que mantiene y entre los que destaca la puerta de la Villa, el convento de Ntra Sra de las Virtudes, la torre de Guzmán, la Chanca o Almadraba, etc. Es una ciudad marinera con calles estrechas y empinadas, donde destaca el caserío blanco.



Actividades.

1.- Si observamos su escudo hay dos elementos que nos llaman la atención y que hacen referencia a su pasado histórico. ¿Cuáles son?

.....

.....

2.- En Andalucía, sobretodo en las provincias de Cádiz, Sevilla y Málaga, hay muchos municipios que mantienen el topónimo “de la Frontera” como es el caso de Conil y Vejer. ¿Sabes por qué?

.....

.....

.....

.....

Si quieres conocer mejor Conil de la Frontera no dejes de visitar el Museo de Raíces Conileñas.

Conil de la Frontera ofrece dos tipos de relieve costero. En la zona este del municipio la costa está formada por extensas playas de fina arena pero en la zona oeste la costa está formada por pequeñas calas y acantilados.

En la zona del Cabo de Roche se encuentra el faro y el puerto de Conil, conocido como la Almadraba. Muy cerca de aquí y continuando por el itinerario ecuestre se encuentra el Pinar de Roche un extenso pinar que mantiene importantes especies vegetales y animales.

Actividad

1.- Pon la letra en la fotografía que corresponda.

A - Torre de Guzmán



B - Conil de la Frontera



C - Pinar de Roche



D - Puerta de la Villa



IE-026 Costa de Trafalgar: Vejer-Barbate

Este itinerario ecuestre de 11 kilómetros une las localidades de Vejer de la Frontera y Barbate a través del pinar de la Breña, paraje ubicado en el Parque Natural La Breña y Marismas del Barbate.

Barbate está considerado como uno de los puertos pesqueros más importantes de Andalucía. Esta ciudad es sinónimo de atún y de su milenaria arte de pesca: la almadraba.

La ciudad se encuentra situada junto a la desembocadura del río Barbate. En su casco urbano destaca el Ayuntamiento, la iglesia de San Paulino, el antiguo colegio de Nuestra Señora del Carmen el antiguo mercado municipal, etc. En la zona del puerto se encuentra la lonja, el Centro de interpretación del Atún de Almadraba y el Punto de información del P. N. La Breña y Marismas del Barbate.



Actividad

1.- Pon la letra en la fotografía que corresponda.

A- Iglesia San Paulino



B- Río Barbate



C- Pesca almadraba



No te vayas de Barbate sin visitar el Punto de información del P.N. La Breña y Marismas del Barbate y en Centro de interpretación del Atún de Almadraba.

EL PINAR DE LA BREÑA

En nuestro recorrido por este itinerario ecuestre atravesaremos el P.N. de La Breña y Marismas del Barbate por la zona conocida como el Pinar de la Breña. Se trata del mayor pinar existente en la provincia de Cádiz y su misión es la de frenar el avance de las dunas de arena desde la costa hacia el interior.

Actividades

1.- ¿Cómo crees que los pinos pueden frenar el avance las dunas?

.....

.....

.....

.....

2.- Fíjate en el tipo de vegetación que existe en el Pinar de la Breña y completa esta frase:

Los árboles se encuentran representados mayoritariamente por los _____ . Los arbustos y plantas que se sitúan junto a ellos esta compuesto por _____ , _____ y _____ , entre otros. Sus hojas tienen forma de _____ para evitar la evaporación del agua.

No dejes de ver la ermita de San Ambrosio y el Palomar de la Breña, ambos ubicados en el Pinar de la Breña

Aunque este itinerario ecuestre no discurre junto al Monumento Natural del Tómbolo de Trafalgar no puedes dejar de visitar esta importante zona de gran importancia natural donde destaca el gran faro y donde se produjo una importante batalla que tuvo una gran importancia para la historia de Andalucía y de España.

Actividades

1.- ¿Podrías explicar que es un tómbolo?

.....
.....
.....
.....

No dejes de admirar las torres vigías de El Tajo y La Meca, y los acantilados de la Breña, donde algunas paredes alcanzan los 100 metros de altura en el Pinar de la Breña.

IE-027.1 Costa de Trafalgar: Vejer-Manzanete

Este recorrido de 8 kilómetros parte desde Vejer de la frontera y llega hasta la pedanía de Manzanete, donde podemos observar y estudiar las marismas del río Barbate

La ciudad de Vejer de la Frontera posee uno de los más bonitos y mejor conservados cascos históricos de Andalucía. Sus calles son irregulares y se encuentra rodeada por una muralla con cuatro puertas y tres torres. En la plaza de España o plaza de los Pescaitos se sitúa el Ayuntamiento y una preciosa fuente realizada con azulejos sevillanos. Muy cerca de ella se encuentra el convento de las Monjas Concepcionistas y, junto a él, uno de los rincones más fotografiados de la ciudad: el arco de las Monjas (no dejes de verlo). La iglesia parroquial del Divino Salvador, el palacio del Marqués de Tamarón, y el castillo son algunos de los muchos monumentos que podemos visitar.



Actividades

1.- Marca la fotografía que corresponda a Vejer de la Frontera.



2.- ¿Cómo son sus calles y sus edificios? ¿Y sus casas?

.....

.....

.....

Si quieres conocer mejor Vejer no dejes de visitar el Centro de interpretación de patrimonio histórico de Vejer de la Frontera (Palacio de Tamarón).

Tras visitar Vejer de la Frontera y continuando por el Itinerario Ecuestre llegamos hasta el río Barbate, un pequeño río de 76 kilómetros de longitud que nace en la sierra del Ajibe y que desemboca en Barbate.

En el tramo entre Vejer de la Frontera y Barbate el río forma la Marisma del Barbate. Se trata de una zona de gran importancia para las aves.

Actividades

1.- ¿Qué es una marisma? Aquí tienes tres definiciones, elige la correcta.

- Terreno que se encuentra por encima del nivel del mar.
- Terreno bajo y pantanoso que inundan las aguas del mar.
- Terreno alto y seco que se encuentra junto al mar.

2.- ¿Por qué es tan importante la Marisma del Barbate para las aves?

.....

.....

.....

.....

IE-027.2 Costa de Trafalgar: Antigua Laguna de La Janda -Facinas

Este es el itinerario de mayor recorrido, 30 kilómetros, y discurre por la Antigua Laguna de la Janda hasta la pedanía de Facinas.

En este itinerario ecuestre recorre la Antigua Laguna de la Janda un antiguo humedal transformado en campos en los que actualmente se plantan diferentes cultivos como arroz, algodón, etc.

La antigua e histórica Cañada Real de Algeciras, Tarifa y Medina Sidonia nos conducirá hasta la población de Facinas pasando junto a numerosas fincas de ganado y aerogeneradores.



Actividades.

1.- Durante este recorrido por la Antigua Laguna de la Janda-Facinas se puede observar dos actividades relacionadas con el sector primario, ¿sabes cuáles son?

.....

.....

.....

2.- ¿En este itinerario podemos observar alguna actividad relacionada con el sector secundario?

.....

.....

.....

3.- ¿Cuál es el uso actual de la Cañada Real?

.....

.....

.....

Muy cerca de Facinas se encuentra el P. N. Los Alcornocales. Este parque posee el mayor número de alcornocales de la Península Ibérica.

4.- Pon la letra en la fotografía que corresponda.

A- Antigua Laguna de la Janda

B- Cañada Real de Algeciras,
Tarifa y Medina Sidonia

C- P. N. Los Alcornocales

D- Arroz

E- Algodón

F- Aerogeneradores



IE-028 Costa de Trafalgar: Guadalmesí-Tarifa

Este itinerario de 10 kilómetros de recorrido une la pedanía de Guadalmesí con Tarifa. Durante su recorrido podemos observar el Estrecho, el continente africano e incluso podrás identificar cetáceos.

Tarifa es la ciudad de Andalucía ubicada más al sur. Tan solo 14 kilómetros la separan de la costa norte de África. El cabo o Punta Tarifa sirve como punto de referencia para establecer la división del mar Mediterráneo y el océano Atlántico.

Los monumentos más importantes que se conservan son: las murallas, los castillos de Guzmán "el Bueno" y de Santa Catalina, las iglesias de Santa María, San Francisco y San Mateo, entre otros.



Actividades

1.- Tarifa cuenta con una línea regular marítima de transporte de pasajeros y mercancías, ¿cuál es su destino?

.....

.....

.....

2.- Cada año acuden a las playas de Tarifa miles de deportistas para la práctica del...

El itinerario parte desde la ciudad de Tarifa y discurre paralelo a la costa hasta la torre del Guadalmesí. Todo el trazado discurre por el P.N. Del Estrecho.

Este parque natural es un excepcional punto para el avistamiento de cetáceos que cruzan el Estrecho. Te recomendamos que antes visites el Centro de Interpretación de Cetáceos donde te ofrecerán toda la información para poder disfrutar de este espectáculo de la naturaleza



Otros lugares que no debes perderte.

El Monumento Natural de la Duna de Bolonia, con una duna de arena de más de 30 metros de altura. Muy cerca se encuentran los restos de una ciudad romana llamada Baelo Claudia. Se trata del conjunto arqueológico más importante de la Costa de Trafalgar.



Actividad

1.- Pon la letra en la fotografía que corresponda.

A- Tarifa

B- Punta de Tarifa

C- Torre del Guadalmesí

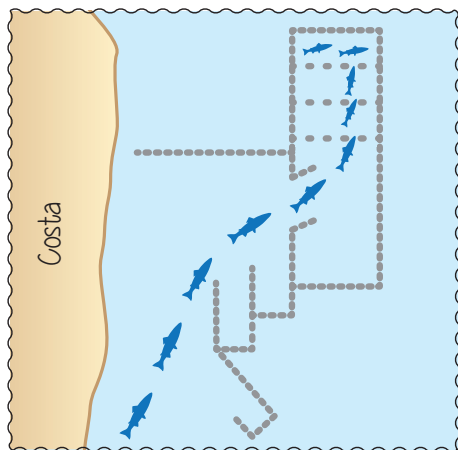
D- Duna de Bolonia

E- Baelo Claudia

F- Castillo Guzmán “el Bueno”



Las almadrabas en la Costa de Trafalgar



La Costa de Trafalgar es un territorio que está unido, histórica y culturalmente, al atún y a su pesca tradicional conocida como la almadraba. Las localidades de Conil de la Frontera, Barbate, Zahara de los Atunes y Tarifa son las únicas de la costa de Cádiz que mantienen esta arte de pesca. Aquí tienes un dibujo explicativo de esta técnica de pesca.

Actividad

1.- La almadraba utiliza un vocabulario específico para denominar diferentes técnicas, redes o acciones, ¿podrías localizarlas en esta sopa de letras?

Levantá, bodornal, buche, copo y cámara.

B	U	C	H	E	Z	I
O	X	A	Y	Z	Ñ	C
D	L	M	R	Z	M	C
O	P	O	C	Y	S	A
R	O	R	S	Z	L	M
N	P	A	T	X	L	A
A	Q	V	U	Ñ	Z	R
L	E	V	A	N	T	A

¿Sabías qué?

El atún rojo puede alcanzar un tamaño superior a los 3 metros, un peso de 650 kilos y llegar a vivir hasta 30 años.

© Edita:

Asociación para el Desarrollo Rural del Litoral de la Janda

Centro Ganadero Montemarismas, Carretera Vejer-Barbate (CA-5203), Km 0,150. Apartado de Correos 43 -
11150 Vejer de la Frontera(Cádiz).

Tel: 956 447 000. Fax: 956 447 504

adrjandalitoral@jandalitoral.org

www.jandalitoral.org

Presidente:

Miguel Ángel Peña García

Dirección:

Carlos Romero Valiente

Coordinación del proyecto:

Antonia M^a Muñoz Lojo

Juana M^a Rodríguez García

Textos, diseño y maquetación:

Escola d'Esplai, SL- QF Turisme

Fotografías:

Escola d'Esplai, SL-QF Turisme, GDR Litoral de la Janda, Francisco Ramos Torrejón

Dibujos e ilustraciones:

Óscar Clemente Piqueras

© de las fotografías e ilustraciones, sus autores. Queda prohibida la reproducción total o parcial de esta publicación por cualquier medio o procedimiento, sin para ello contar con la autorización previa, expresa y por escrito del editor.

Todos los derechos están reservados. Queda prohibida la reproducción total o parcial de esta publicación, sea por medios mecánicos o electrónicos, sin la debida autorización por escrito del GDR (Asociación para el Desarrollo Rural del Litoral de la Janda).

Esta publicación se encuentra dirigida a escolares que cursan Tercer Ciclo de Primaria. El objetivo principal es dar conocer la Costa de Trafalgar a través del hilo conductor de los 5 itinerarios ecuestres, recientemente señalizados y homologados, y que recorren los lugares más importantes desde el punto de vista natural, social y cultural de la Costa de Trafalgar.

La acción del conocimiento del patrimonio de nuestra comunidad, y de nuestro territorio más cercano, es una premisa indispensable para que nuestros escolares puedan desarrollar un sentimiento de permanencia, arraigo y conservación del mismo.

En este cuaderno de trabajo se desarrollan diferentes objetivos y contenidos del contenido curricular correspondiente a la Educación Primaria en Andalucía.

Financian:



Promueven:



Colaboran:

